

به نام خدا

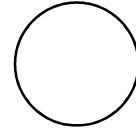
در نیمسال دوم ۱۴۰۱-۱۴۰۰

آزمون ریاضی کلاس دوم دبستان دخترانه سما

نام و نام خانوادگی

۱- اعداد دو رقمی بنویسید که رقم یکان آن ها ۳ و ۶ و دهگان آن ها ۴ و ۹ باشد.

۲- با رسم دو خط شکل های زیر را به ۴ قسمت مساوی تقسیم کنید



۳- مقدار پول را بنویسید



۴- یک مستطیل به ضلع ۲ و ۴ سانتی متر و یک مربع به ضلع ۳ سانتی متر رسم کنید

۵- به صورت باز شده بنویسید

$$۲۵۴ =$$

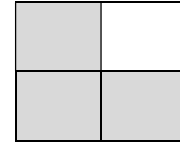
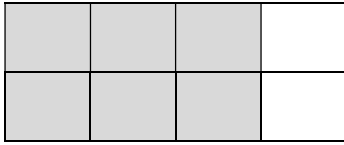
$$۴۷۲ =$$

۶- حاصل جمع زیر را بنویسید

$$۲ + ۱۰۰ + ۴۰ + ۱۰ + ۵۰۰ =$$

$$۷۰ + ۳ + ۲۰۰ + ۵ + ۳۰۰ =$$

۷- چه مقدار از شکل های زیر رنگ شده است؟



.....قسمت ازقسمت مساوی

.....قسمت ازقسمت مساوی

۸- الگوی عددی را ادامه بدهید.

۴۲۰ ، ۴۳۰ ، ۴۴۰ ،

۹- جمع و تفریق زیر را فرایندی حساب کنید.

-۸۴۷

+۴۲۵

۵۲۶

۱۳۱

جزوه سیتی

۱۰- جمع و تفریق زیر را تکنیکی حساب کنید .

-۶۵۰

+۴۷۵

۲۱۵

۱۵۲

۱۱- ساعت ۱۰ و ۳ دقیقه است ۲۰ دقیقه بعد ساعت چند می شود؟

ساعت چهار و نیم است یک ساعت و ۵ دقیقه بعد ساعت چند می شود؟

۱۲- قد علی ۱۴۰ سانتی متر است برادرش ۲۵ سانتی متر از او بلند تر است.

قد برادر علی چقدر است؟

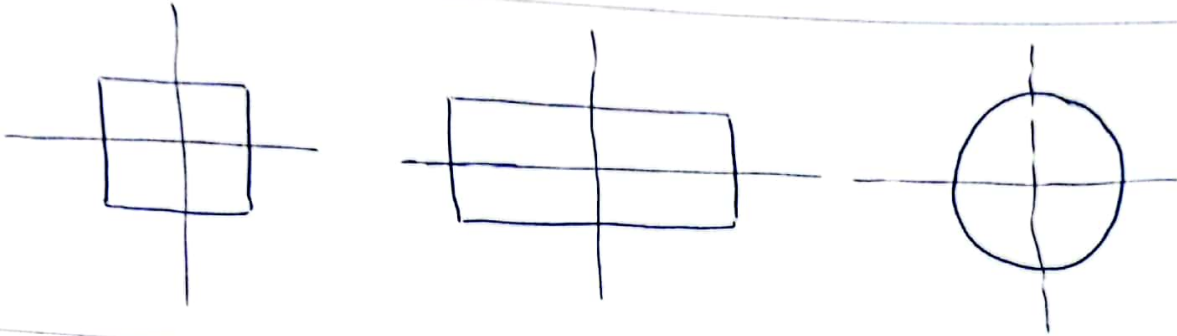
قد این دو نفر روی هم چقدر می شود؟

موفق باشید

کون
 $4 - 3 : 42$
 $9 - 3 : 93$

کون
 $4 - 4 : 44$
 $9 - 4 : 94$

①



②

$100 + 100 + 100 + 10 + 10 + 10 + 10 + 1 + 1 + 1 + 1 = 344$

③



④

$2 \times 4 = 200 + 80 + 4$


$3 \times 3 = 300 + 90 + 3$

⑤

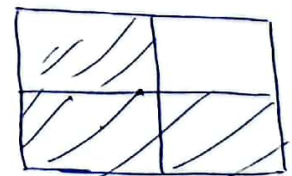
$2 + 100 + 80 + 10 + 200 = 452$

⑥

$70 + 3 + 200 + 8 + 200 = 578$



۴ صفت از ۸ صفت مساوی



۳ صفت از ۴ صفت مساوی

⑦

$f_{20}, f_{30}, f_{40}, f_{50}, f_{60}, f_{70}$
 $+10 \quad +10 \quad +10 \quad +10 \quad +10$

8

$$\begin{array}{r}
 - \quad 827 \\
 \quad 524 \\
 \hline
 \quad 303 \\
 - \quad 24 \\
 \hline
 \quad 279 \\
 - \quad 4 \\
 \hline
 \quad 275
 \end{array}$$

$$\begin{array}{r}
 + \quad 425 \\
 \quad 121 \\
 \hline
 \quad 546 \\
 + \quad 31 \\
 \hline
 \quad 577 \\
 + \quad 1 \\
 \hline
 \quad 578
 \end{array}$$

9

$$\begin{array}{r}
 + \quad 475 \\
 \quad 152 \\
 \hline
 \quad 627
 \end{array}$$

$$\begin{array}{r}
 4 \quad 10 \\
 - \quad 215 \\
 \hline
 \quad 425
 \end{array}$$

10

حزوه سپی

۲۰ دقیقه ساعت ۱۰ و ۲۳ دقیقه می شود .

کلی ساعت و ۵ دقیقه بعد ساعت ۵:۳۵ است .

11

$$140 + 25 = 165$$

ساعت مقرر قدر برابر علم

12

$$\begin{array}{r}
 + \quad 140 \\
 \quad 140 \\
 \hline
 \quad 280
 \end{array}$$

ساعت مقرر قدر دو نفر اول هم